


کد کنترل

121

A



121A

ویژه نظام آموزشی ۳-۳-۶

دفترچه شماره ۲
صبح پنجشنبه
۱۳۹۸/۴/۱۳



جمهوری اسلامی ایران
وزارت علوم، تحقیقات و فناوری
سازمان سنجش آموزش کشور

«اگر دانشگاه اصلاح شود مملکت اصلاح می شود.»
امام خمینی (ره)

آزمون سراسری ورودی دانشگاه‌های کشور - ۱۳۹۸

آزمون اختصاصی
گروه آزمایشی علوم ریاضی و فنی

مدت پاسخ‌گویی: ۱۷۵ دقیقه

تعداد سؤال: ۱۳۵

عنوان مواد امتحانی آزمون اختصاصی گروه آزمایشی علوم ریاضی و فنی، تعداد، شماره سؤالات و مدت پاسخ‌گویی

ردیف	مواد امتحانی	تعداد سؤال	از شماره	تا شماره	مدت پاسخ‌گویی
۱	ریاضیات	۵۵	۱۰۱	۱۵۵	۸۵ دقیقه
۲	فیزیک	۴۵	۱۵۶	۲۰۰	۵۵ دقیقه
۳	شیمی	۳۵	۲۰۱	۲۳۵	۳۵ دقیقه

حق چاپ، تکثیر و انتشار سؤالات به هر روش (الکترونیکی و ...) پس از برگزاری آزمون، برای تمامی اشخاص حقیقی و حقوقی تنها با مجوز این سازمان مجاز می‌باشد و با متخلفین برابر مقررات رفتار می‌شود.

سال ۱۳۹۸

صفحه ۲

* داوطلب گرامی، عدم درج مشخصات و امضاء در مندرجات جدول ذیل، به منزله عدم حضور شما در جلسه آزمون است.

اینجانب.....با شماره داوطلبی.....با آگاهی کامل، یکسان بودن شماره
صندلی خود را با شماره داوطلبی مندرج در بالای کارت ورود به جلسه، بالای پاسخنامه و دفترچه
سؤالات، نوع و کدکنترل درج شده بر روی دفترچه سؤالات و پائین پاسخنامه ام را تأیید می نمایم.

امضاء:

۱۰۱- در یک کلاس ۳۹ نفری، ۱۶ نفر در گروه ورزش، ۱۲ نفر در گروه روزنامه دیواری و ۹ نفر فقط در گروه ورزش
هستند. چند نفر آنان عضو هیچ یک از این دو گروه نیستند؟

۱۸ (۴)

۱۷ (۳)

۱۶ (۲)

۱۵ (۱)

۱۰۹- حاصل عبارت $\tan \frac{11\pi}{4} + \sin \frac{15\pi}{4} \cos \frac{13\pi}{4}$ کدام است؟

- (۱) $-\frac{3}{2}$ (۲) $-\frac{1}{2}$ (۳) $\frac{1}{2}$ (۴) $\frac{3}{2}$

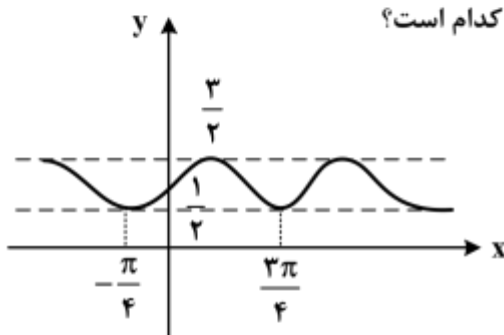
۱۱۰- حاصل $\lim_{x \rightarrow 0} \frac{\sin a \cos x + \cos a \sin x - \sin a}{x}$ کدام است؟

- (۱) $-\sin a$ (۲) $-\cos a$ (۳) $\cos a$ (۴) $\sin a$

۱۱۱- به ازای کدام مقدار a تابع با ضابطه $f(x) = \begin{cases} \frac{3x-6}{x-\sqrt{x+2}} & ; x > 2 \\ ax-1 & ; x \leq 2 \end{cases}$ بر روی مجموعه اعداد حقیقی پیوسته است؟

- (۱) $1/5$ (۲) 2 (۳) $2/5$ (۴) 3

۱۱۲- شکل روبه‌رو، نمودار تابع $y = 1 + a \sin bx \cos bx$ است. $a + b$ کدام است؟



(۱) ۱

(۲) $\frac{3}{2}$

(۳) ۲

(۴) ۳

۱۱۳- مجموع جواب‌های معادله مثلثاتی $\sin^3 x + \cos^3 x = 1 - \frac{1}{2} \sin 2x$ در بازه $[0, 2\pi]$ ، کدام است؟

- (۱) $\frac{5\pi}{2}$ (۲) $\frac{7\pi}{2}$ (۳) 2π (۴) 3π

۱۱۴- اگر $\lim_{x \rightarrow 2} \frac{2x-5}{x^2+ax+b} = -\infty$ باشد، $a + b$ کدام است؟

- (۱) -1 (۲) صفر (۳) ۱ (۴) ۲

۱۱۵- اگر $g(x) = x + \sqrt{x}$ و $\lim_{x \rightarrow 2} \frac{f(x) - f(2)}{x - 2} = \frac{4}{3}$ باشد، $(fog)'(1)$ کدام است؟

- (۱) $\frac{2}{3}$ (۲) $\frac{3}{2}$ (۳) ۲ (۴) ۳

۱۱۶- تابع با ضابطه $f(x) = \begin{cases} |x^2 - 2x| & ; x < 2 \\ \frac{1}{2}x^2 + ax + b & ; x \geq 2 \end{cases}$ در نقطه $x = 2$ مشتق پذیر است. $a + b$ کدام است؟

- (۱) ۲ (۲) ۳ (۳) ۴ (۴) ۵

۱۱۷- در تابع با ضابطه $f(x) = (x+2)\sqrt{4x+1}$ ، آهنگ تغییر متوسط تابع در بازه $[0, 2]$ از آهنگ تغییر لحظه‌ای آن در $x = \frac{3}{4}$ چقدر بیشتر است؟

- (۱) ۰/۱۰ (۲) ۰/۱۵ (۳) ۰/۲۰ (۴) ۰/۲۵

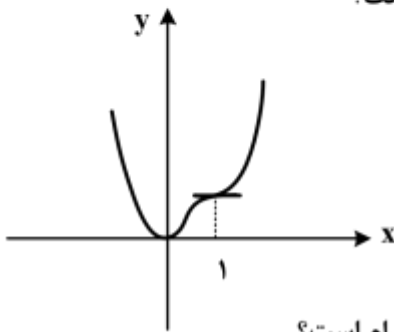
۱۱۸- شکل روبه‌رو، نمودار تابع $f(x) = 3x^4 + ax^3 + bx^2 + cx$ است. a کدام است؟

(۱) -۸

(۲) -۷

(۳) -۵

(۴) -۴



۱۱۹- فاصله نقطه می‌نیمم مطلق تابع $f(x) = \frac{x^2 + 2x}{(x-1)^2}$ از خط مجانب قائم آن کدام است؟

- (۱) ۱ (۲) $\frac{4}{3}$ (۳) $\frac{3}{2}$ (۴) ۲

۱۲۰- در یک دوزنقه، خطی که وسط ساق‌ها را به هم وصل کند مساحت آن را به نسبت ۳ به ۵ تقسیم می‌کند، نسبت قاعده‌های دوزنقه کدام است؟

- (۱) $\frac{1}{4}$ (۲) $\frac{1}{3}$ (۳) $\frac{2}{5}$ (۴) $\frac{3}{5}$

۱۲۱- در مثلث ABC نقطه M وسط BC است. نیمسازهای دو زاویه AMB و AMC دو ضلع مثلث را در P و Q قطع می‌کنند. نقطه O محل تلاقی AM و PQ است. OM برابر کدام است؟

- (۱) $\frac{1}{4}BC$ (۲) AQ (۳) OA (۴) OP

۱۲۲- در چهارضلعی ABCD، وسط دو ضلع غیرمجاور و وسط دو قطر آن، رأس‌های یک لوزی است. الزاماً کدام نتیجه‌گیری در مورد چهارضلعی مفروض، درست است؟

- (۱) دو ضلع غیرمجاور دیگر، برابرند.
 (۲) دو قطر عمود برهم‌اند.
 (۳) دو ضلع شامل رأس‌های لوزی، برابرند.
 (۴) دو ضلع غیرمجاور، موازی‌اند.

محل انجام محاسبات

۵

۱۲۳- نقطه A و خط d و صفحه P مفروض‌اند. در رسم صفحه‌ای گذرا از نقطه A، موازی خط d و عمود بر صفحه P، در کدام حالت، تعداد جواب‌ها، بی‌شمار است؟

$$(۱) \quad d \cap p = d \quad (۲) \quad d \cap p \neq \emptyset \quad (۳) \quad d \parallel p \quad (۴) \quad d \perp p$$

۱۲۴- در یک مکعب، صفحه‌ای گذرا بر یک یال و وسط یال دیگر، آن را به دو قطعه نابرابر تقسیم می‌کند. نسبت حجم‌های این دو قطعه، کدام است؟

$$(۱) \quad \frac{1}{4} \quad (۲) \quad \frac{1}{3} \quad (۳) \quad \frac{1}{\sqrt{5}} \quad (۴) \quad \frac{1}{\sqrt{3}}$$

۱۲۵- در شکل زیر، وتر AB برابر شعاع دایره و $AB \parallel CD$ ، زاویه $\beta = 2\alpha$ و CX مماس بر دایره است. کمان \widehat{BD} چند درجه است؟



$$(۱) \quad 50^\circ$$

۱۳۰- از رابطه ماتریسی $\begin{bmatrix} 3 & -1 & 1 \\ 4 & 0 & -2 \\ 1 & 2 & 0 \end{bmatrix} \begin{bmatrix} x \\ 2x \\ -1 \end{bmatrix} = 0$ ، عدد غیر صفر x ، کدام است؟

$$\frac{2}{9} \quad (1) \quad \frac{3}{8} \quad (2) \quad \frac{4}{9} \quad (3) \quad \frac{3}{5} \quad (4)$$

۱۳۱- اگر $A = \begin{bmatrix} 2 & 1 \\ 4 & 3 \end{bmatrix}$ ، از رابطه ماتریسی $AX = A - 2I$ ، ماتریس X ، کدام است؟

$$\begin{bmatrix} 1 & 2 \\ 4 & -1 \end{bmatrix} \quad (4) \quad \begin{bmatrix} 2 & -1 \\ 4 & 2 \end{bmatrix} \quad (3) \quad \begin{bmatrix} -2 & 1 \\ 4 & -1 \end{bmatrix} \quad (2) \quad \begin{bmatrix} -2 & 2 \\ 3 & -1 \end{bmatrix} \quad (1)$$

۱۳۲- اگر A ماتریس 3×3 باشد و $|A| = 4$ ، آنگاه دترمینان ماتریس $|A| \cdot A$ ، کدام است؟

$$256 \quad (4) \quad 128 \quad (3) \quad 96 \quad (2) \quad 64 \quad (1)$$

۱۳۳- وتر مشترک دایره C با دایره به معادله $x^2 + y^2 - 4x = 6$ منطبق بر نیمساز ناحیه اول است. اگر دایره C از نقطه

$(-1, 4)$ بگذرد، معادله آن کدام است؟

$$x^2 + y^2 + 2y - x = 6 \quad (2) \quad x^2 + y^2 - y + 2x = 6 \quad (1)$$

$$x^2 + y^2 - 3y - x = 6 \quad (4) \quad x^2 + y^2 - 2y + x = 6 \quad (3)$$

۱۳۴- معادله یک سهمی با کانون $F(2, 1)$ و خط هادی به معادله $x = 4$ ، کدام است؟

$$y^2 - 2y + 2x = 5 \quad (2) \quad y^2 - 2y + 4x = 11 \quad (1)$$

$$x^2 - 6x + 2y = -5 \quad (4) \quad x^2 - 4x + 4y = 0 \quad (3)$$

۱۳۵- در یک بیضی به اقطار $2\sqrt{5}$ و ۲ واحد، دایره‌ای هم مرکز با بیضی و شعاع ۲ واحد، بیضی را در نقطه M

قطع می‌کند. مجموع مربعات فواصل M از دو کانون بیضی، کدام است؟

$$20 \quad (4) \quad 18 \quad (3) \quad 16 \quad (2) \quad 12 \quad (1)$$

۱۳۶- به ازای کدام مقدار m ، سه بردار $\vec{a} = (-1, 2, 3)$ ، $\vec{b} = (2, 0, 1)$ و $\vec{c} = (-4, m, 5)$ در یک صفحه‌اند؟

$$4 \quad (4) \quad 3 \quad (3) \quad 2 \quad (2) \quad -2 \quad (1)$$

۱۳۷- اگر $A = \{\{1, 2\}, \{1, \{2\}\}, \{1, \{1, 2\}\}, \{2\}\}$ و $B = \{\{1\}, \{1, 2\}\}$ باشند، تعداد زیر مجموعه‌های $A \cap B'$ ، کدام است؟

$$32 \quad (4) \quad 16 \quad (3) \quad 8 \quad (2) \quad 4 \quad (1)$$

۱۳۸- در دو جعبه به ترتیب ۲۰ و ۱۲ لامپ موجود است. در جعبه اول ۴ لامپ و در جعبه دوم ۳ لامپ معیوب است. از

جعبه اول ۵ لامپ و از جعبه دوم ۷ لامپ، به تصادف برداشته و در جعبه جدید قرار می‌دهیم. با کدام احتمال، یک

لامپ انتخابی از جعبه جدید، معیوب است؟

$$\frac{7}{24} \quad (4) \quad \frac{13}{48} \quad (3) \quad \frac{11}{48} \quad (2) \quad \frac{5}{24} \quad (1)$$

محل انجام محاسبات

-۱

۱

۷

۳۹ در دو پیشامد مستقل A و B ، اگر $P(A \cap B) = 0/6$ و $P(A \cap B') = 0/2$ ، آنگاه $P(A \cup B')$ کدام است؟

- (۱) $0/7$ (۲) $0/75$ (۳) $0/85$ (۴) $0/9$

۱۴۰- نمرات ریاضی ۴۰ دانش آموز یک کلاس در جدول زیر آمده است. میانگین وزنی نمرات، کدام است؟

	۱۰	۱۲	۱۴	۱۵	۱۷	۱۸
x						
f	۵	۸	۷	۱۰	۶	۴

- (۱) $14/2$ (۲) $14/25$ (۳) $14/4$ (۴) $14/75$

۱۴۱- نرخ بیکاری یک کشور در ۱۰ سال گذشته به صورت زیر است، مقدار $\frac{Q_1 + Q_3 - 2Q_2}{Q_3 - Q_1}$ کدام است؟

$12/7, 30/2, 10/6, 11/9, 10/6, 12/3, 11/2, 13/5, 12/8, 11/5$

- (۱) $-0/225$ (۲) $-0/125$ (۳) $0/175$ (۴) $0/275$

۱۴۲- اگر باقی مانده تقسیم عددی بر ۶ و ۱۱ به ترتیب ۵ و ۷ باشد، آنگاه باقی مانده تقسیم این عدد بر ۶۶، کدام است؟

- (۱) ۲۹ (۲) ۳۲ (۳) ۴۰ (۴) ۴۱

۱۴۳- به ازای بعضی از مقادیر $n \in \mathbb{N}$ ، اگر $3 + 13n$ و $4 + 7n$ و $\alpha \neq 1$ باشد، آنگاه مجموع ارقام کوچکترین عدد n ، کدام است؟

- (۱) ۷ (۲) ۸ (۳) ۹ (۴) ۱۰

۱۴۴- قیمت هر واحد از دو نوع کالای متمایز به ترتیب ۲۲۰ و ۱۴۰ تومان است. با مبلغ ۱۹۰۰۰ تومان، به چند طریق می توان از این دو نوع کالا، خریداری کرد؟

- (۱) ۱۰ (۲) ۱۱ (۳) ۱۲ (۴) ۱۳

۱۴۵- اگر عدد $a + 7^{13}$ بر ۲۳ بخش پذیر باشد، کوچکترین عدد طبیعی a ، کدام است؟

- (۱) ۲ (۲) ۳ (۳) ۴ (۴) ۵

۱۴۶- یک گراف ساده ۶ رأسی ۴- منتظم، دارای چند دور با طول ۴ است؟

- (۱) ۹ (۲) ۱۰ (۳) ۱۲ (۴) ۱۵

۱۴۷- به چند طریق می توان ۱۱ توپ یکسان را بین ۵ نفر توزیع کرد، به طوری که هر نفر حداقل، یک توپ داشته باشد؟

- (۱) ۱۶۰ (۲) ۱۸۰ (۳) ۲۱۰ (۴) ۲۲۰

۳	۱	۲
۱	۲	۳
۲	۳	۱

-۱

۸

یا

۴۸ تعداد توابع پوشا، از یک مجموعه ۶ عضوی به یک مجموعه ۳ عضوی، کدام است؟

- ۳۶۰ (۱) ۴۵۰ (۲) ۴۸۰ (۳) ۵۴۰ (۴)

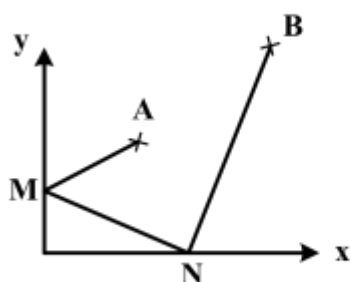
۱۴۹- از مجموعه اعداد $\{5, 8, 11, \dots, 65, 68, 71\}$ که به صورت یک تصاعد عددی مرتب شده است. یک زیر مجموعه حداقل چند عضوی انتخاب شود تا مطمئن باشیم، لااقل دو عدد در این زیر مجموعه موجود است که جمع آن‌ها، ۸۲ باشد؟

- ۱۱ (۱) ۱۲ (۲) ۱۳ (۳) ۱۴ (۴)

۱۵۰- به ازای کدام مجموعه مقادیر x ، بازه $(x+1, 2x-1)$ یک همسایگی عدد ۳، می باشد؟

- \emptyset (۱) $\{2\}$ (۲) $2 < x < 2.5$ (۳) $1.5 < x < 2$ (۴)

۱۵۱- نقاط $A \begin{pmatrix} 3 \\ 5 \end{pmatrix}$ و $B \begin{pmatrix} 9 \\ 11 \end{pmatrix}$ در صفحه محورهای مختصات مفروض‌اند، دو نقطه M و N همواره روی دو محور می‌لغزند.



کمتربین اندازه خط شکسته $AMNB$ ، کدام است؟

- ۱۸ (۱)
۱۹ (۲)
۲۰ (۳)
۲۱ (۴)

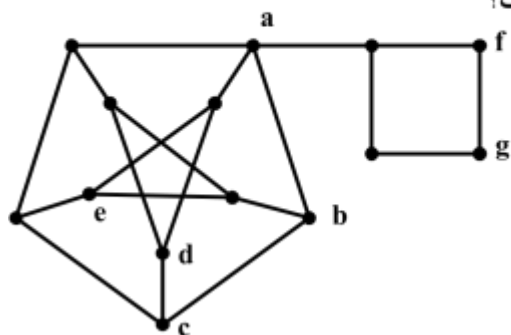
۱۵۲- گزاره $(p \Rightarrow q) \sim$ ، با کدام گزاره زیر، هم ارزش است؟

- $\sim p \vee q$ (۱) $p \vee \sim q$ (۲) $\sim p \wedge q$ (۳) $p \wedge \sim q$ (۴)

۱۵۳- گزاره سوری، $\forall x \in N, \exists y \in N; P(x, y)$ ، با کدام گزاره نمای $P(x, y)$ دارای ارزش درست است؟

- $y - x = 6$ (۱) $x - y = 6$ (۲) $x + y = 6$ (۳) $xy = 6$ (۴)

۱۵۴- کدام مجموعه برای گراف روبه‌رو، یک مجموعه احاطه‌گر مینیمال است؟



- $\{a, c, e, g\}$ (۱)
 $\{a, d, e, g\}$ (۲)
 $\{a, b, d, e\}$ (۳)
 $\{a, d, e, f\}$ (۴)

، کدام است؟

۱۵۵- تعداد مربع‌های لاتین متعامد با مربع لاتین

۶ (۴)

۴ (۳)

۳ (۲)

۲ (۱)

محل انجام محاسبات

۹

21-A

۵۶ متحرکی بدون سرعت اولیه در مبدأ زمان از مبدأ مکان روی محور x با شتاب ثابت به حرکت درآمده و در لحظه $t = ۵s$ به مکان $x = -۱۲۲/۵m$ می‌رسد. بزرگی سرعت متحرک در این لحظه به چند متر بر ثانیه می‌رسد؟

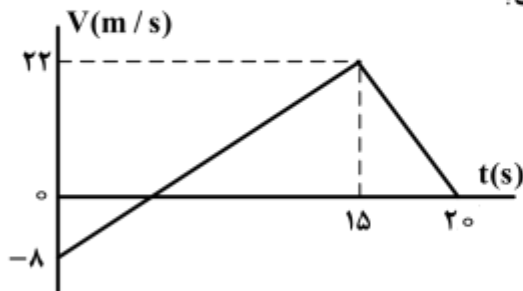
۴۹/۰ (۴)

۴۵/۰ (۳)

۳۲/۴ (۲)

۱۹/۶ (۱)

۱۵۷- نمودار سرعت - زمان متحرکی که بر مسیری مستقیم حرکت می‌کند، به صورت شکل زیر است. مسافت پیموده شده توسط این متحرک در بازه زمانی $۰s$ تا $۲۰s$ ، چند متر است؟



۱۶۰ (۱)

۱۷۶ (۲)

۱۸۰ (۳)

۱۹۲ (۴)

۱۵۸- گلوله‌ای از ارتفاع h رها می‌شود. این گلوله با سرعت V از ارتفاع ۹ متری زمین عبور می‌کند و با سرعت $\frac{3}{2}V$ به زمین می‌رسد. h چند متر است؟ (از مقاومت هوا صرف‌نظر شود و $g = ۱۰ \frac{m}{s^2}$)

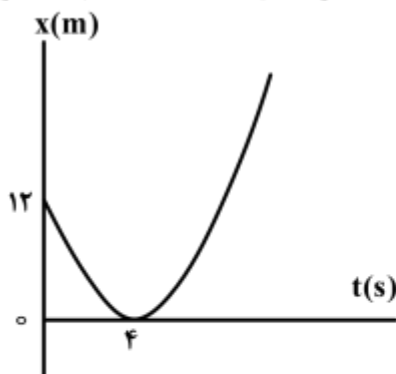
۳۶ (۴)

۳۲/۴ (۳)

۱۸ (۲)

۱۶/۲ (۱)

۱۵۹- مطابق شکل زیر، نمودار مکان - زمان متحرکی به صورت سهمی است. سرعت متحرک در لحظه $t = ۸s$ چند متر بر ثانیه است؟



۳ (۱)

۴ (۲)

۶ (۳)

۱۲ (۴)

۱۶۰- راننده خودرویی به جرم ۲ تن که با سرعت $۳۶ \frac{km}{h}$ در یک مسیر مستقیم و افقی در حرکت است، با دیدن مانعی ترمز می‌کند. در اثر ترمز، خودرو با طی مسافت ۴ متر می‌ایستد. نیروی اصطکاک وارد شده بر خودرو چند نیوتون است؟

۲۵۰۰۰ (۴)

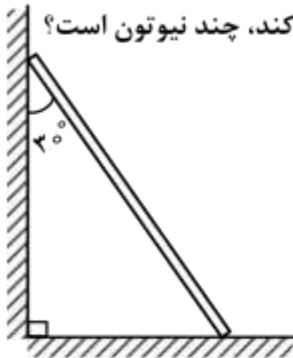
۱۵۰۰۰ (۳)

۱۲۵۰۰ (۲)

۷۵۰۰ (۱)

محل انجام محاسبات

۱۶۱- نردبانی همگن به جرم 40 kg مطابق شکل زیر، روی دیوار قائمی با اصطکاک ناچیز قرار دارد. اگر نیرویی که دیوار قائم به نردبان وارد می‌کند، 300 N باشد، نیرویی که سطح افقی به نردبان وارد می‌کند، چند نیوتون است؟



$$(g = 10 \frac{\text{N}}{\text{kg}})$$

$$400 \quad (1)$$

$$500 \quad (2)$$

$$600 \quad (3)$$

$$250\sqrt{3} \quad (4)$$

۱۶۲- ماهواره‌ای به جرم 500 کیلوگرم در ارتفاع 1600 کیلومتری سطح زمین به دور آن می‌چرخد. نیروی مرکزگرای

$$\text{وارد بر ماهواره چند نیوتون است؟ } (R_e = 6400 \text{ km} \text{ و } g = 10 \frac{\text{m}}{\text{s}^2})$$

$$640 \quad (4)$$

$$800 \quad (3)$$

$$3200 \quad (2)$$

$$5000 \quad (1)$$

۱۶۳- در کف یک آسانسور باسکولی نصب شده است. در یک حرکت، باسکول وزن شخص را بیش از حالت سکون نشان داده است. آن حرکت چگونه است؟

(۱) الزاماً تندشونده به طرف بالا

(۲) الزاماً تندشونده به طرف پایین

(۳) تندشونده به طرف بالا یا کندشونده به طرف پایین

(۴) کندشونده به طرف بالا یا تندشونده به طرف پایین

۱۶۴- مطابق شکل زیر، جسمی روی سطح افقی ساکن است. به جسم نیروی افقی F وارد می‌شود. 5 ثانیه پس از وارد

شدن نیروی F مقدار این نیرو 30 نیوتون کاهش می‌یابد، حرکت جسم پس از آن چگونه است؟ $(g = 10 \frac{\text{m}}{\text{s}^2})$

(۱) جسم همان لحظه می‌ایستد.

(۲) حرکت جسم با شتاب $1 \frac{\text{m}}{\text{s}^2}$ کند می‌شود.

(۳) حرکت جسم با شتاب $3 \frac{\text{m}}{\text{s}^2}$ کند می‌شود.

(۴) جسم با سرعت ثابت به حرکت خود ادامه می‌دهد.

۱۶۵- مطابق شکل زیر، سه توپ مشابه از بالای ساختمانی، از یک نقطه با سرعت یکسان پرتاب می‌شوند. اگر کار نیروی

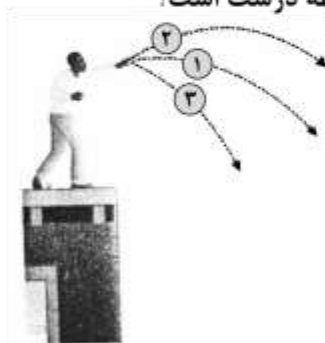
وزن روی سه توپ از لحظه پرتاب تا رسیدن به زمین W_1 ، W_2 و W_3 باشد، کدام رابطه درست است؟

$$W_1 = W_2 = W_3 \quad (1)$$

$$W_2 > W_1 > W_3 \quad (2)$$

$$W_2 < W_1 < W_3 \quad (3)$$

$$W_2 = W_3 > W_1 \quad (4)$$

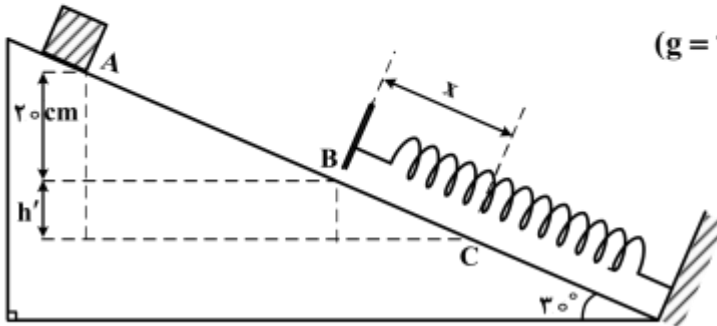


۱۶۶- اگر تکانه گلوله‌ای در SI از ۲۰ به ۲۲ برسد، انرژی جنبشی گلوله چند درصد افزایش می‌یابد؟

- (۱) ۱۰ (۲) ۱۲ (۳) ۲۱ (۴) ۴۲

۱۶۷- جسمی به جرم ۲ کیلوگرم روی سطح شیبدار با اصطکاک ناچیز به سمت پایین می‌لغزد و با سرعت $۲ \frac{m}{s}$ از نقطه A عبور کرده و در نقطه B به فنر برخورد می‌کند. اگر حداکثر فشردگی فنر x و بیشینه انرژی ذخیره شده در فنر

۱۰ ژول باشد، x چند سانتی‌متر است؟ ($g = ۱۰ \frac{m}{s^2}$)



(۱) ۱۰

(۲) ۲۰

(۳) ۳۰

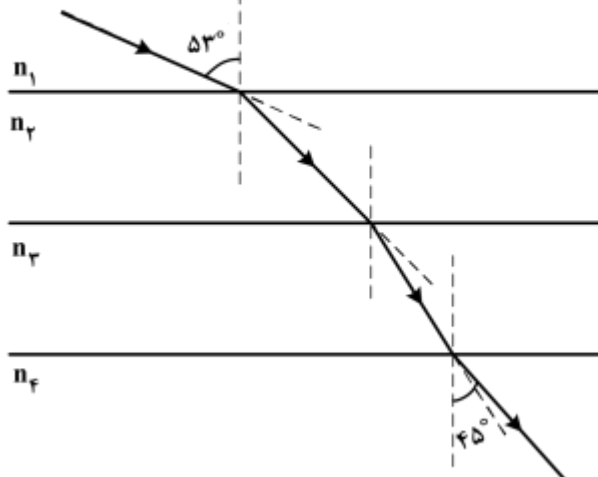
(۴) ۴۰

۱۶۸- مطابق شکل زیر پرتو نوری از محیط شفاف (۱) وارد محیط‌های شفاف دیگر می‌شود. اگر سرعت نور در محیط (۲)،

۲۵ درصد کم‌تر از سرعت نور در محیط (۱) باشد و سرعت نور در محیط (۴)، ۴۰ درصد بیشتر از سرعت نور در

محیط ۳ باشد، ضریب شکست محیط (۲) چند برابر ضریب شکست محیط (۳) است؟ خط عمود

$$(\sin 53^\circ = 0.8, \sin 45^\circ = 0.7)$$



(۱) $\frac{4}{3}$

(۲) $\frac{6}{5}$

(۳) $\frac{3}{4}$

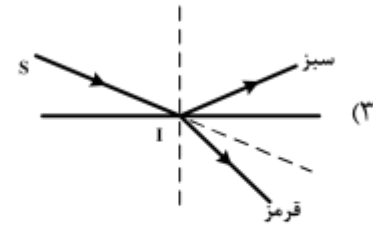
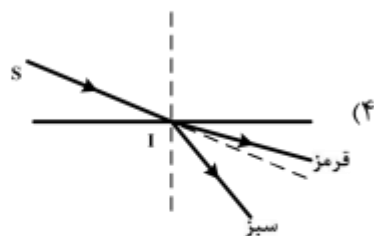
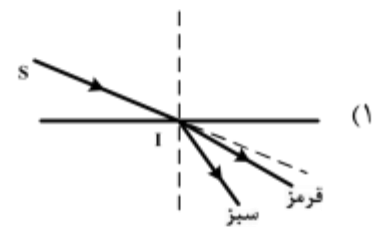
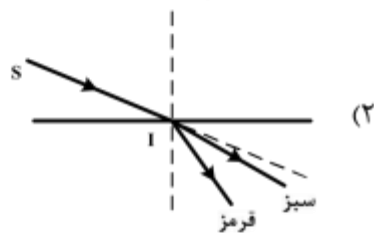
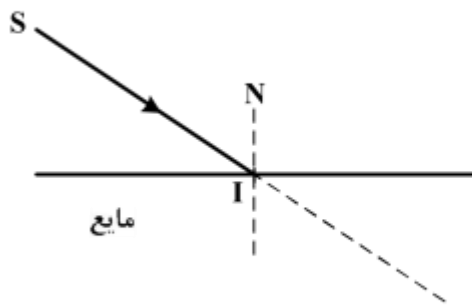
(۴) $\frac{5}{6}$

صفحه ۲

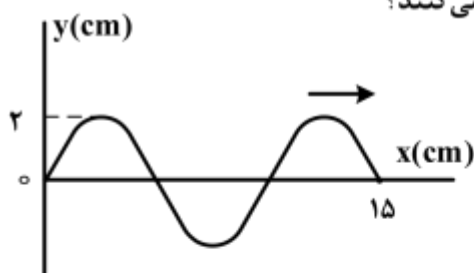
12 -A

فیزیک

۱۶۹- در شکل زیر، پرتو فرودی SI شامل نورهای تکفام قرمز و سبز است که از هوا وارد یک مایع شفاف می شود. کدام یک از شکل های زیر مسیر شکست نور را درست نشان می دهد؟



۱۷۰- شکل زیر، یک موج سینوسی را در لحظه ای از زمان نشان می دهد که در جهت محور x در طول ریسمان کشیده شده ای حرکت می کند. اگر نیروی کشش ریسمان 80 N و چگالی خطی (جرم واحد طول) آن $0.2 \frac{\text{kg}}{\text{m}}$ باشد، هر یک از ذرات ریسمان در مدت 0.1 s مسافت چند سانتی متر را طی می کنند؟



(۱) ۲

(۲) ۴

(۳) ۸

(۴) ۱۶

۱۷۱- چگالی خطی جرم (جرم واحد طول) در یک سیم که در ساز موسیقی به کار رفته $4 \times 10^{-3} \frac{\text{kg}}{\text{m}}$ است و این سیم بین دو نقطه با نیروی 250 N کشیده شده است. اگر بسامد صوت حاصل از ساز 312.5 Hz باشد، طول موج ایجاد شده در آن چند متر است؟

(۴) $1/25$ (۳) 0.80 (۲) 0.75 (۱) 0.50

محل انجام محاسبات

۱۷۲- آونگ ساده‌ای به طول 80 cm با دامنه کم در حال نوسان است. طول آونگ را چگونه تغییر دهیم تا دوره نوسان آن نصف شود؟

- (۱) 60 سانتی‌متر کاهش دهیم.
 (۲) 60 سانتی‌متر افزایش دهیم.
 (۳) 20 سانتی‌متر کاهش دهیم.
 (۴) 20 سانتی‌متر افزایش دهیم.

۱۷۳- نوسانگری به جرم 100 g به انتهای فنری که ثابت آن $40 \frac{\text{N}}{\text{m}}$ است، بسته شده است و روی سطح افقی بدون اصطکاک، حرکت هماهنگ ساده انجام می‌دهد. اگر انرژی مکانیکی نوسانگر 8 mJ باشد، لحظه‌ای که انرژی جنبشی نوسانگر برابر انرژی پتانسیل کشسانی آن است، سرعت آن چند متر بر ثانیه است؟

- (۱) $\frac{\sqrt{2}}{10}$ (۲) $\frac{\sqrt{2}}{5}$ (۳) $10\sqrt{2}$ (۴) $20\sqrt{2}$

۱۷۴- یک لامپ 200 وات، نور بنفش با طول موج 400 nm گسیل می‌کند. یک لامپ 200 وات دیگر نور زرد با طول موج 600 nm گسیل می‌کند. تعداد فوتون‌هایی که در هر ثانیه از لامپ زرد گسیل می‌شود، چند برابر تعداد فوتون‌هایی است که در همین مدت از لامپ بنفش گسیل می‌شود؟

- (۱) $\frac{2}{3}$ (۲) 1 (۳) $\frac{3}{2}$ (۴) 2

۱۷۵- تابع کار فلزی 4.14 eV است. بیشینه طول موج نور برای خارج کردن الکترون از سطح این فلز چند نانومتر است؟

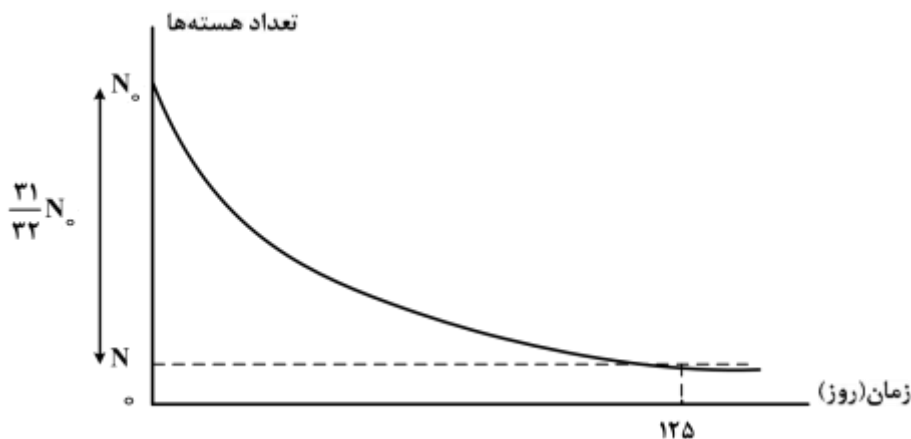
$$(h = 4.14 \times 10^{-15} \text{ eV}\cdot\text{s} \text{ و } C = 3 \times 10^8 \frac{\text{m}}{\text{s}})$$

- (۱) 300 (۲) 400 (۳) 500 (۴) 600

۱۷۶- در واکنش ${}_{92}^{237}\text{X} \rightarrow \text{Y} + 3\alpha + \beta^-$ تعداد نوکلئون‌های Y چقدر است؟

- (۱) 224 (۲) 225 (۳) 226 (۴) 228

۱۷۷- نمودار واپاشی هسته‌های یک ماده پرتوزا برحسب زمان به صورت شکل زیر است. نیمه عمر این ماده چند روز است؟

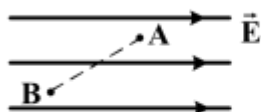


محل انجام محاسبات

- (۱) 5
 (۲) 25
 (۳) 50
 (۴) 62.5

۴

۱۷۸- در شکل زیر، بار الکتریکی $q = -50 \mu\text{C}$ از نقطه A به پتانسیل الکتریکی 120 ولت به نقطه B می‌رود و انرژی پتانسیل الکتریکی آن 5mJ تغییر می‌کند. پتانسیل الکتریکی نقطه B چند ولت است؟



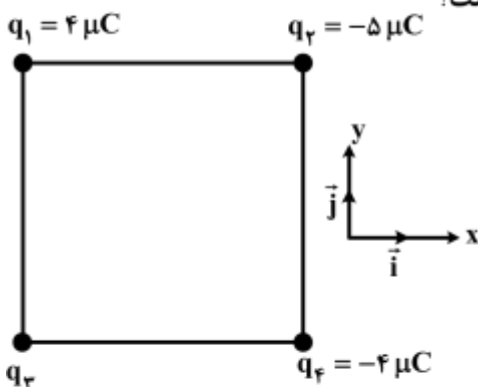
۲۰ (۱)

۱۱۰ (۲)

۱۳۰ (۳)

۲۲۰ (۴)

۱۷۹- چهار ذره باردار مطابق شکل زیر در رأس‌های یک مربع به ضلع 20cm قرار دارند. اگر نیروی الکتریکی خالص وارد بر q_2 در SI به صورت $\vec{F} = -9\vec{i}$ باشد، q_3 چند میکروکولن است؟



$$(k = 9 \times 10^9 \frac{\text{N.m}^2}{\text{C}^2})$$

 $-8\sqrt{2}$ (۱)

-۴ (۲)

۴ (۳)

 $8\sqrt{2}$ (۴)

۱۸۰- اگر اندازه بارهای هر یک از دو بار الکتریکی نقطه‌ای را ۳ برابر کنیم و فاصله بین آن‌ها را نیز ۳ برابر کنیم، نیروی الکتریکی بین آن‌ها چند برابر می‌شود؟

۹ (۴)

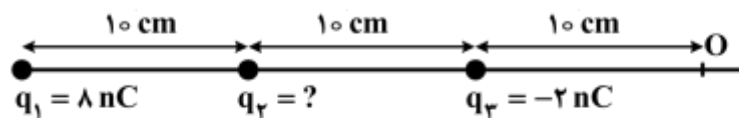
۳ (۳)

۱ (۲)

 $\frac{1}{3}$ (۱)

۱۸۱- سه بار نقطه‌ای مطابق شکل زیر ثابت شده‌اند. میدان الکتریکی برآیند حاصل از سه بار در نقطه O برابر $100 \frac{\text{N}}{\text{C}}$

است. بار q_2 چند نانو کولن می‌تواند باشد؟ $(k = 9 \times 10^9 \frac{\text{N.m}^2}{\text{C}^2})$



+۴ (۱)

+۲ (۲)

-۲ (۳)

-۴ (۴)

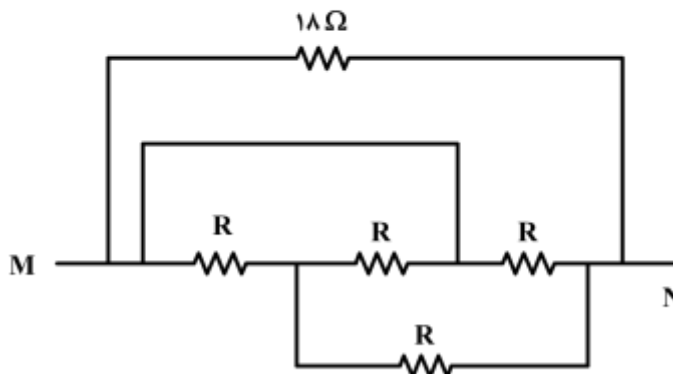
۱۸۲- خازنی به یک باتری که ولتاژ آن قابل تنظیم است، متصل است. اگر ولتاژ دو سر خازن از 20V به 15V برسد، انرژی ذخیره شده در آن چند برابر می‌شود؟

 $\frac{3}{16}$ (۴) $\frac{9}{16}$ (۳) $\frac{2}{3}$ (۲) $\frac{3}{4}$ (۱)

۱۸۳- ترمیستور چیست؟

- (۱) نوعی دیود است که حساس به نور و گرما است.
- (۲) نوعی دیود است که به عنوان دماسنج استفاده می‌شود.
- (۳) نوعی از مقاومت است که بستگی مقاومت الکتریکی آن به دما، تقریباً صفر است.
- (۴) نوعی از مقاومت است که بستگی مقاومت الکتریکی آن به دما، با مقاومت‌های الکتریکی معمولی متفاوت است.

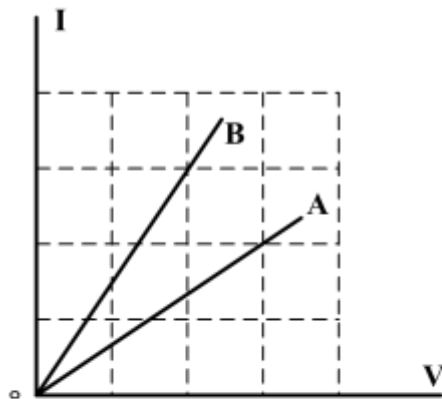
۱۸۴- در مدار زیر، مقاومت معادل بین دو نقطه M و N برابر $\frac{R}{۲}$ است. R چند اهم است؟



- (۱) ۱۸
- (۲) ۱۲
- (۳) ۶
- (۴) ۳

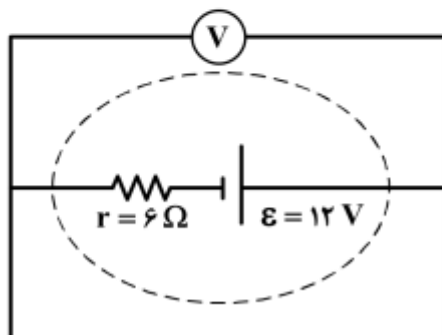
۱۸۵- شکل زیر، رابطه بین جریان عبوری از مقاومت‌های A و B و اختلاف پتانسیل دو سر آن مقاومت‌ها را نشان

می‌دهد. مقاومت B چند برابر مقاومت A است؟



- (۱) $\frac{۴}{۹}$
- (۲) $\frac{۲}{۳}$
- (۳) $\frac{۳}{۲}$
- (۴) $\frac{۹}{۴}$

۱۸۶- در مدار زیر، ولت‌سنج چند ولت را نشان می‌دهد؟



- (۱) صفر
- (۲) ۲
- (۳) ۶
- (۴) ۱۲

۶

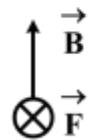
۱۸۷- پیچه مسطحی شامل ۵۰ حلقه است و مساحت سطح هر حلقه آن $۶۴\pi\text{cm}^2$ است. اگر جریان ۸ آمپر از آن بگذرد،

اندازه میدان مغناطیسی در مرکز پیچه چند تسلا است؟ ($\mu_0 = 4\pi \times 10^{-7} \frac{\text{T.m}}{\text{A}}$)

- (۱) 10^{-3} (۲) $10^{-3}\pi$ (۳) $1/6 \times 10^{-3}$ (۴) $2 \times 10^{-3}\pi$

۱۸۸- الکترونی با سرعت \vec{V} در یک میدان مغناطیسی یکنواخت، عمود بر میدان در حرکت است. اگر شکل زیر نشان دهنده

جهت میدان (\vec{B}) و جهت نیروی وارد بر الکترون (\vec{F}) باشد، جهت \vec{V} کدام است؟

(۱) \odot (۲) \otimes (۳) \rightarrow (۴) \leftarrow

۱۸۹- معادله شار مغناطیسی عبوری از یک پیچه که شامل ۶۰ حلقه است، در SI به صورت $\phi = 4 \times 10^{-3} \cos 100\pi t$

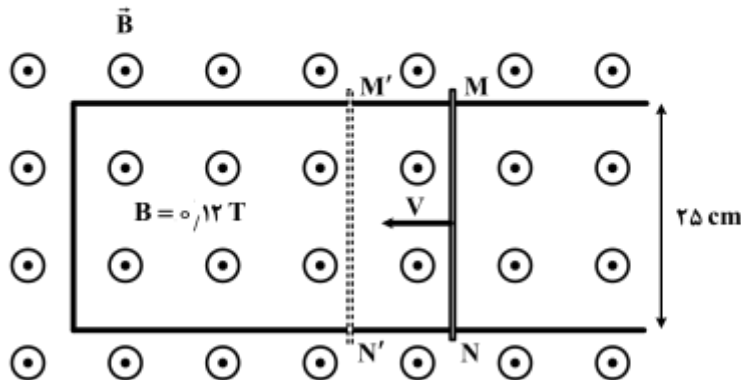
است. اندازه نیروی محرکه القایی متوسط در پیچه در بازه زمانی $t_1 = \frac{1}{200} \text{s}$ تا $t_2 = \frac{1}{100} \text{s}$ چند ولت است؟

- (۱) $2/4$ (۲) $4/8$ (۳) 24 (۴) 48

۱۹۰- میله فلزی MN را روی رسانای U شکل با سرعت ثابت V در مدت Δt از وضع MN به وضع M'N' در

می آوریم. اگر نیروی محرکه القاء شده ۰/۱۵ ولت باشد، سرعت حرکت میله چند متر بر ثانیه و جهت جریان القا شده

در میله، کدام است؟



(۱) ۵ و از N به طرف M

(۲) ۵ و از M به طرف N

(۳) $7/5$ و از N به طرف M(۴) $7/5$ و از M به طرف N

۱۹۱- مکعب فلزی توپری به ابعاد $5\text{cm} \times 4\text{cm} \times 2\text{cm}$ و چگالی $8 \frac{\text{g}}{\text{cm}^3}$ از طرف یکی از وجه‌هایش روی سطح افقی

قرار می‌گیرد. بیشترین فشاری که مکعب می‌تواند بر سطح وارد کند، چند پاسکال است؟ ($g = 10 \frac{\text{N}}{\text{kg}}$)

- (۱) 1.6×10^2 (۲) 4×10^2 (۳) 1.6×10^3 (۴) 4×10^3

۱۹۲- در شکل زیر دمای گاز 27°C درجه سلسیوس و فشار آن 75 سانتی‌متر جیوه است. اگر دمای گاز را 30°C درجه سلسیوس افزایش دهیم، چند سانتی‌متر به ارتفاع جیوه در شاخه A اضافه کنیم تا سطح جیوه در شاخه سمت

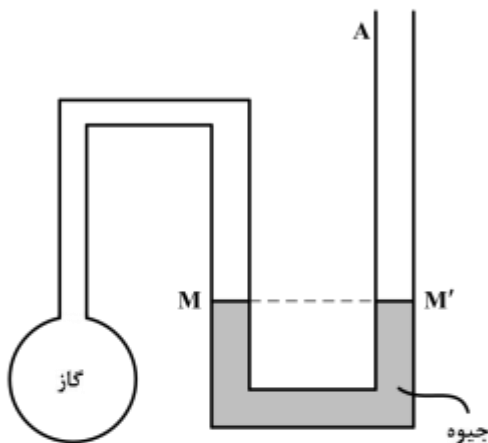
چپ، در سطح M باقی بماند؟

(۱) ۲۰

(۲) ۱۵

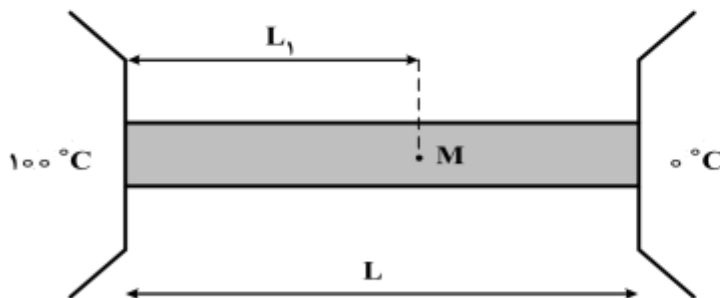
(۳) 7.5

(۴) 5.5



۱۹۳- یک میله همگن به طول L بین دو منبع با دماهای 100°C و صفر درجه سلسیوس قرار دارد، طول L_1 چه کسری از L باشد تا دما در نقطه M از میله برابر 30°C درجه سلسیوس باشد؟ (از مبادله گرما بین سطح میله و محیط

صرف نظر شده است.)



(۱) 0.3

(۲) 0.5

(۳) 0.7

(۴) 0.75

۱۹۴- یک حباب هوا به حجم 1.4×10^{-5} سانتی‌متر مکعب از عمق دریاچه‌ای که فشار در آن محل 1.8×10^5 پاسکال و دما 7°C درجه سلسیوس است، به سطح دریاچه می‌رسد که دما 27°C درجه سلسیوس و فشار 1.0×10^5 پاسکال است. در

این انتقال، حجم حباب چند سانتی‌متر مکعب تغییر می‌کند؟

(۴) 0.70

(۳) 1.07

(۲) 1.28

(۱) 1.30

۸

۹

۱۹۵ در یک فرایند بی‌دررو، اگر حجم گاز از 5Lit به 4Lit برسد، کار انجام شده روی گاز برابر W_1 و تغییر انرژی درونی گاز ΔU_1 است و اگر در ادامه همان فرایند، حجم گاز از 4Lit به 3Lit برسد، کار انجام شده روی گاز W_2 و تغییر انرژی درونی گاز ΔU_2 است. کدام رابطه درست است؟

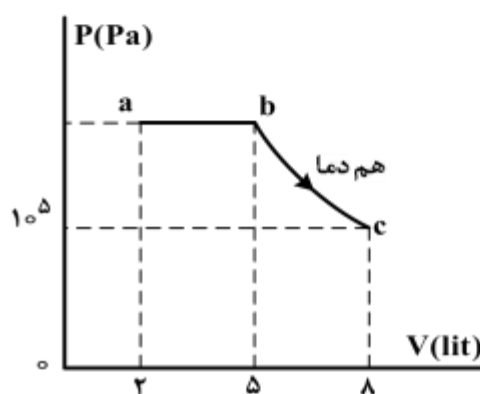
$$\Delta U_2 > \Delta U_1, W_2 > W_1 \quad (2) \quad \Delta U_2 = \Delta U_1, W_2 = W_1 \quad (1)$$

$$\Delta U_2 > \Delta U_1, W_1 > W_2 \quad (4) \quad \Delta U_1 > \Delta U_2, W_1 > W_2 \quad (3)$$

۱۹۶- در یک یخچال، گرمایی که به بیرون داده می‌شود $\frac{5}{4}$ گرمایی است که از مواد داخل یخچال گرفته می‌شود. ضریب عملکرد این یخچال چقدر است؟

$$2 \quad (1) \quad 3 \quad (2) \quad 4 \quad (3) \quad 5 \quad (4)$$

۱۹۷- نمودار $(P-V)$ ی مقدار معینی گاز تک اتمی مطابق شکل زیر است. انرژی درونی گاز در حالت c چند ژول از



انرژی درونی گاز در حالت a بیشتر است؟ $(C_p = \frac{5}{2}R)$

$$450 \quad (1)$$

$$720 \quad (2)$$

$$750 \quad (3)$$

$$1200 \quad (4)$$

۱۹۸- درون دو ظرف با حجم یکسان، در یکی n مول گاز اکسیژن و در دیگری به همان تعداد مول هلیوم وجود دارد. طی یک فرایند هم حجم، به هر دو گاز، مقدار گرمای یکسانی می‌دهیم. اگر نسبت افزایش دمای هلیوم به افزایش دمای اکسیژن را با k و نسبت تغییر انرژی درونی گاز هلیوم به تغییر انرژی درونی گاز اکسیژن را با m نشان دهیم، کدام گزینه درست است؟

$$m > 1, k > 1 \quad (4) \quad m < 1, k < 1 \quad (3) \quad m = 1, k = 1 \quad (2) \quad m = 1, k > 1 \quad (1)$$

۱۹۹- دمای 122 درجه فارنهایت معادل با چند درجه سلسیوس و چند کلوین است؟

$$323 \text{ و } 59 \quad (4) \quad 322 \text{ و } 59 \quad (3) \quad 323 \text{ و } 50 \quad (2) \quad 322 \text{ و } 50 \quad (1)$$

۲۰۰- نقطه ذوب طلا:

- (۱) فقط در مقیاس نانو ذره خیلی کاهش می‌یابد.
- (۲) فقط در مقیاس نانو ذره خیلی افزایش می‌یابد.
- (۳) هم در مقیاس نانو ذره و هم در مقیاس نانو لایه خیلی کاهش می‌یابد.
- (۴) هم در مقیاس نانو ذره و هم در مقیاس نانو لایه خیلی افزایش می‌یابد.

۲۰۱- کدام مورد از مطالب زیر، درست‌اند؟

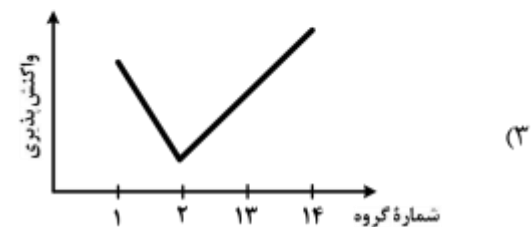
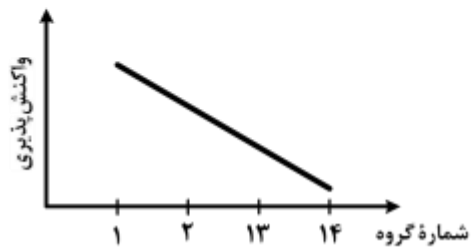
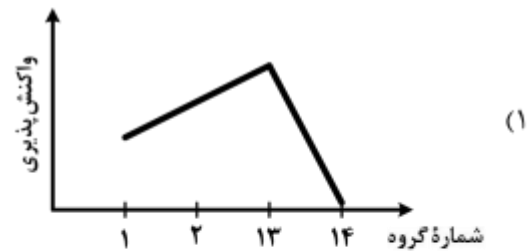
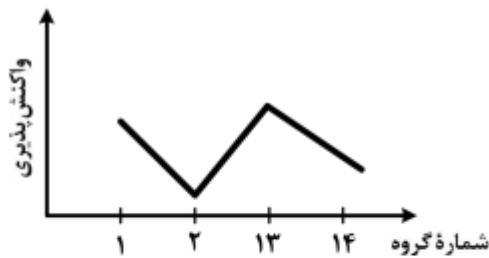
- (آ) معمولاً، هر چه واکنش‌پذیری فلزی بیشتر باشد، استخراج آن، دشوارتر است.
 (ب) واکنش‌پذیری هر عنصر، به معنای تمایل اتم آن به انجام واکنش شیمیایی است.
 (پ) در واکنش: FeO(s) با Na(s) ، واکنش‌پذیری فرآورده‌ها از واکنش‌دهنده‌ها بیشتر است.
 (ت) در واکنش: $\text{Na}_2\text{O(s)}$ با C(s) ، واکنش‌پذیری واکنش‌دهنده‌ها از فرآورده‌ها بیشتر است.

(۱) آ، پ، ت (۲) ب، پ، ت (۳) آ، ب (۴) ب، ت

۲۰۲- در دوره سوم جدول دوره‌ای، شمار عنصرهای فلز و نافلز به ترتیب از راست به چپ، کدام است؟ (با صرف نظر از گازهای نجیب)

(۱) ۴، ۳ (۲) ۳، ۳ (۳) ۴، ۴ (۴) ۳، ۴

۲۰۳- روند کلی واکنش‌پذیری چهار عنصر نخست از سمت چپ دوره دوم جدول دوره‌ای (تناوبی) در برابر اکسیژن در دمای اتاق، به ترتیب شماره گروه آن‌ها، کدام است؟



۲۰۴- آرایش الکترونی لایه آخر اتم کدام عنصر، مشابه با آرایش الکترونی لایه ظرفیت اتم K ۱۹ است؟

(۱) ${}_{29}\text{A}$ (۲) ${}_{21}\text{D}$ (۳) ${}_{27}\text{X}$ (۴) ${}_{31}\text{Z}$

۲۰۵- عنصر فرضی X دارای دو ایزوتوپ سبک و سنگین با جرم‌های 14amu و 16amu و جرم اتمی میانگین 14.2amu است. نسبت شمار اتم‌های ایزوتوپ سنگین به سبک، در آن کدام است؟

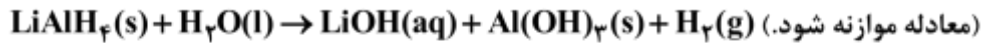
(۱) $\frac{1}{8}$ (۲) $\frac{1}{9}$ (۳) $\frac{1}{10}$ (۴) $\frac{1}{11}$

۲۰۶- مجموع ضریب‌های استوکیومتری مواد در معادله واکنش: $\text{Na}_2\text{O}_2(\text{s}) + \text{H}_2\text{O}(\text{l}) \rightarrow \text{NaOH}(\text{aq}) + \text{O}_2(\text{g})$ ، پس از موازنه، کدام است؟

(۱) ۸ (۲) ۹ (۳) ۱۰ (۴) ۱۱

۲۰۷ اگر ز و کنش ۵ گرم از $\text{LiAlH}_4(\text{s})$ ناخالص با آب، طبق معادله زیر، $11/2\text{L}$ گاز در شرایط STP تولید شود،

درصد خلوص $\text{LiAlH}_4(\text{s})$ ، کدام است؟ ($\text{Al} = 27, \text{Li} = 7, \text{H} = 1; \text{g.mol}^{-1}$)



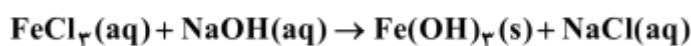
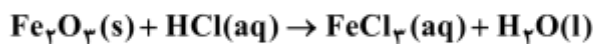
۸۰ (۱) ۸۵ (۲) ۹۰ (۳) ۹۵ (۴)

۲۰۸ - ۲۰ گرم از یک نمونه سنگ معدن آهن در ۱۰۰ میلی لیتر از محلول اسیدی انداخته شده است تا یون های Fe^{3+}

آن به صورت محلول درآیند. اگر با افزودن مقدار زیادی $\text{NaOH}(\text{s})$ به این محلول، ۵/۳۵ گرم از رسوب

آهن(III) هیدروکسید به دست آید، درصد جرمی آهن در این نمونه سنگ معدن، کدام است؟ (معادله واکنش‌ها

موازنه شود. ($\text{Fe} = 56, \text{O} = 16, \text{H} = 1; \text{g.mol}^{-1}$)



۴ (۱) ۸ (۲) ۱۰ (۳) ۱۴ (۴)

۲۰۹ - درختان با جذب $\text{CO}_2(\text{g})$ ، می‌توانند آن را به قند گلوکز ($\text{C}_6\text{H}_{12}\text{O}_6$) تبدیل کنند. اگر یک درخت، سالانه

۶۶kg گاز CO_2 جذب کند، چند کیلوگرم از این قند در آن ساخته می‌شود؟

(معادله موازنه شود. $\text{CO}_2(\text{g}) + \text{H}_2\text{O}(\text{l}) \rightarrow \text{C}_6\text{H}_{12}\text{O}_6(\text{aq}) + \text{O}_2(\text{g})$; ($\text{O} = 16, \text{C} = 12, \text{H} = 1; \text{g.mol}^{-1}$))

۴۵ (۱) ۲۵ (۲) ۱۸ (۳) ۲۱ (۴)

۲۱۰ - چند مورد از مطالب زیر، درست‌اند؟

- گاز آرگون، سومین گاز فراوان در هوا کره است.
- انبیب، وسیله تقطیر مواد بود که توسط جابر بن حیان نوآوری شده بود.
- برخی از جانداران ذره‌بینی، نیتروژن هوا را برای مصرف گیاهان در خاک، تثبیت می‌کنند.
- نسبت گازهای سازنده هوا کره از ۲۰۰ میلیون سال پیش تاکنون، به تقریب ثابت مانده است.

۱ (۱) ۲ (۲) ۳ (۳) ۴ (۴)

۲۱۱ - با توجه به شکل زیر، چند مورد از مطالب زیر درباره نمک MX درست است؟

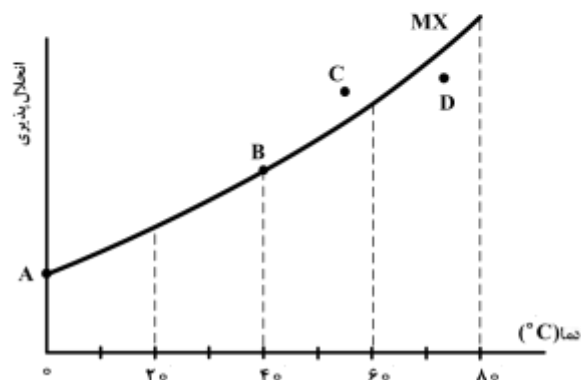
- در نقطه B، محلول این نمک، حالت سیر شده دارد.
- نقطه A، انحلال پذیری این نمک را در دمای 0°C نشان می‌دهد.
- در نقطه D، حلال می‌تواند مقدار دیگری از این نمک را در خود حل کند.
- در نقطه C، حلال توانسته است مقدار بیشتر از حد سیر شدن از این نمک را در خود حل کند.

۱ (۱)

۲ (۲)

۳ (۳)

۴ (۴)

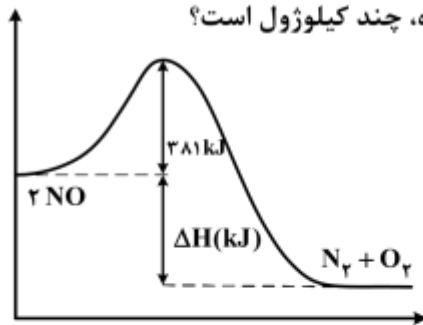


- ۱ صفحه ۱
- ۱
- ۲۱۲- کدام فریند به خاصیت گذرندگی (اسمز)، مربوط نیست؟
 (۱) پلاسیده شدن خیار تازه در آب شور
 (۲) متورم شدن زردآلوی خشک در آب درون لیوان
 (۳) ته نشین شدن گل و لای در دریاچه‌ها
 (۴) نگهداری طولانی مدت گوشت و ماهی در نمک
- ۲۱۳- محلول ۲۳ درصد جرمی اتانول در آب، به تقریب چند مولار است؟
 (d) $(\text{mol}^{-1} \cdot \text{g} \cdot \text{mL}^{-1} = 0.9; \text{O} = 16, \text{C} = 12, \text{H} = 1)$
 (۱) ۳/۵ (۲) ۴/۵ (۳) ۳ (۴) ۴
- ۲۱۴- چند میلی‌لیتر از یک محلول ۳۶/۵ درصد جرمی هیدروکلریک اسید، با چگالی $1.2 \text{g} \cdot \text{mL}^{-1}$ باید به ۱۰ لیتر آب اضافه شود تا غلظت یون کلرید به تقریب برابر 9.5ppm شود؟
 (d) $(\text{mol}^{-1} \cdot \text{g} \cdot \text{mL}^{-1} = 1; \text{H} = 1, \text{Cl} = 35.5)$
 (۱) ۰/۵۲ (۲) ۱/۰۸ (۳) ۲/۵۷ (۴) ۵/۲
- ۲۱۵- کدام مورد، درست است؟
 (۱) راه‌های گوناگون دیگری برای تأمین انرژی بدن به جز گوارش غذا (چربی‌ها و قندها) وجود دارد.
 (۲) مصرف پتاسیم برای پیشگیری و ترمیم پوکی استخوان، بسیار مفید است.
 (۳) تبدیل ماده به انرژی، تنها منبع حیات‌بخش انرژی در زمین است.
 (۴) سرانه مصرف مواد غذایی در کشورهای مختلف، یکسان است.
- ۲۱۶- با توجه به واکنش: $\text{N}_2\text{H}_4(\text{g}) + \text{H}_2(\text{g}) \rightarrow 2\text{NH}_3(\text{g}) + 183 \text{kJ}$ ، کدام مورد درست است؟
 (۱) سطح انرژی فرآورده از واکنش‌دهنده‌ها پایین‌تر است.
 (۲) با تولید هر مول آمونیاک، 183kJ انرژی تولید می‌شود.
 (۳) واکنش گرماگیر است و با انجام آن در یک ظرف، دمای آن پایین می‌آید.
 (۴) با انجام واکنش در دمای ثابت، انرژی باید از محیط به سامانه جریان یابد.
- ۲۱۷- با توجه به داده‌های جدول زیر، ΔH واکنش: $\text{CO}(\text{g}) + 2\text{H}_2(\text{g}) \rightarrow \text{CH}_3\text{OH}(\text{g})$ ، چند کیلوژول است؟

نوع پیوند	$\text{C} \equiv \text{O}$	$\text{H}-\text{H}$	$\text{C}-\text{H}$	$\text{C}-\text{O}$	$\text{O}-\text{H}$
آنتالپی ($\text{kJ} \cdot \text{mol}^{-1}$)	۱۰۷۵	۴۳۶	۴۱۴	۳۵۱	۴۶۴

 (۱) -۲۱۰ (۲) -۱۸۰ (۳) -۱۱۰ (۴) -۸۰
- ۲۱۸- فسفر سفید برخلاف هیدروژن در هوا و در دمای اتاق به‌طور خودبه‌خودی آتش می‌گیرد. بنابراین، در آزمایشگاه، آن را زیر آب نگهداری می‌کنند. نقش آب در این فرایند، کدام است؟
 (۱) کاتالیزگر
 (۲) بازدارنده
 (۳) کاهش‌دهنده E_a
 (۴) افزایش‌دهنده E_a

۲۱۹ با توجه به شکل زیر، اگر انرژی پیوندهای $N \equiv N$ و $O = O$ به ترتیب برابر ۹۴۴ و ۴۹۶ کیلوژول بر مول باشد، جمع جبری ΔH و E_a در واکنش (رفت) نشان داده شده، چند کیلوژول است؟



- (۱) +۱۵۵
(۲) +۱۸۷
(۳) +۴۲۱
(۴) +۶۰۷

۲۲۰- در واکنش: (معادله موازنه شود). $PI_3(s) + H_2O(l) \rightarrow H_3PO_4(aq) + HI(aq)$ ، اگر مقدار آغازین $PI_3(s)$ برابر $۲۰/۶$ گرم درون یک لیتر آب بوده و پس از دو دقیقه به $۴/۱۲$ گرم برسد، سرعت متوسط مصرف این ماده، به تقریب به چند مول بر ثانیه و غلظت $HI(aq)$ به چند مول بر لیتر می‌رسد؟ ($I = ۱۲۷ : g.mol^{-1}$, $P = ۳۱$ ؛ از تغییر حجم صرف نظر شود.)

- (۱) $۰/۱۲$ ، $۳/۳ \times ۱۰^{-۴}$
(۲) $۰/۰۸$ ، $۳/۳ \times ۱۰^{-۴}$
(۳) $۰/۱۲$ ، $۶/۶۷ \times ۱۰^{-۴}$
(۴) $۰/۰۸$ ، $۶/۶۷ \times ۱۰^{-۴}$

۲۲۱- نسبت شمار اتم‌های هیدروژن به شمار اتم‌های کربن، در کدام دو ترکیب، یکسان است؟
(۱) بوتان، اتن
(۲) بنزن، نفتالن
(۳) اتین، هیدروژن سیانید
(۴) بنزن، سیکلوگزان

۲۲۲- کدام مطلب، نادرست است؟

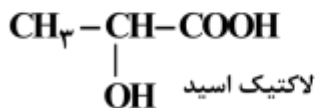
- (۱) پلیمرها، دارای مولکول‌هایی با زنجیرهای بلند و جرم مولکولی زیاد هستند.
(۲) پلی‌اتن، جامد سفید رنگی است که با گرما دادن اتن در فشار بالا، تشکیل می‌شود.
(۳) در مولکول پلی‌اتن، هر اتم کربن با چهار اتم دیگر (کربن و هیدروژن) پیوند کووالانسی یگانه دارد.
(۴) در همه پلیمرهای طبیعی و مصنوعی، مونومرها باید پیوندهای دوگانه کربن - کربن داشته باشند.

۲۲۳- کدام مطلب، درباره فرمیک اسید، درست است؟

- (۱) پرکاربردترین کربوکسیلیک اسید، است.
(۲) با آب، پیوند هیدروژنی، تشکیل می‌دهد.
(۳) در ساختار آن، پنج جفت الکترون ناپیوندی وجود دارد.
(۴) به صورت مصنوعی تهیه می‌شود و در طبیعت یافت نمی‌شود.

۲۲۴- با توجه به ساختار لاکتیک اسید، پلیمر به دست آمده از آن،

گروه عاملی مشابه کدام پلیمر، خواهد داشت؟



(۴) پلی‌اتیلن ترفتالات

(۳) پلی‌اتن

(۲) سلولز

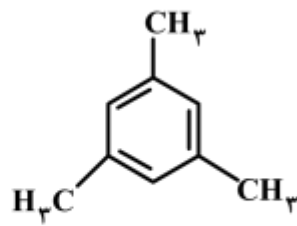
(۱) کولار

صفحه ۳

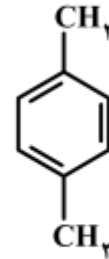
1

±

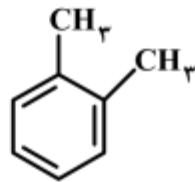
۲۲۵- از اکسایش کدام ترکیب می‌توان ترفتالیک اسید تهیه کرد؟



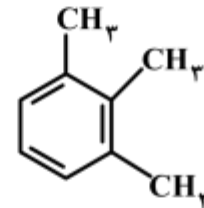
(۲)



(۱)



(۴)



(۳)

۲۲۶- در یک آزمایش، ۱۰ مول از یک دی‌آمین با ۱۰ مول از یک دی‌اسید آلی واکنش کامل داده و به پلی‌آمید تبدیل شده‌اند. مقدار آب تشکیل شده، چند مول است؟

۴۰ (۴)

۳۰ (۳)

۲۰ (۲)

۱۰ (۱)

۲۲۷- برای افزایش قدرت پاک‌کنندگی شوینده‌ها، افزودن کدام ماده، بهتر است؟

(۲) کلسیم هیدروکسید

(۱) منیزیم کلرید

(۴) آلومینیم هیدروکسید

(۳) سدیم هیدروژن کربنات

۲۲۸- به ۲۰۰ mL آب سخت ($d = 1 \text{ g.mL}^{-1}$) که دارای یون‌های Ca^{2+} با غلظت ۲۰۰۰ ppm است، ۴/۷۲ گرم از

صابون با جرم مولی 236 g.mol^{-1} اضافه شده است. با فرض کامل بودن واکنش صابون با یون کلسیم، چند درصد

از آن، به صورت رسوب، درآمده است؟ ($\text{Ca} = 40, \text{Na} = 23 : \text{g.mol}^{-1}$)

(معادله موازنه شود، $(\text{RCOONa}(\text{aq}) + \text{CaCl}_2(\text{aq}) \rightarrow (\text{RCOO})_2\text{Ca}(\text{s}) + \text{NaCl}(\text{aq}))$)

۱۰۰ (۴)

۵۰ (۳)

۲۰ (۲)

۱۰ (۱)

۲۲۹- اگر در محلول ۰/۱ مولار یک اسید ضعیف، غلظت یون هیدرونیوم برابر 4×10^{-3} مول بر لیتر باشد، درصد یونش

اسید و pH محلول، به تقریب کدام است؟ ($\log 4 \approx 0/6$)

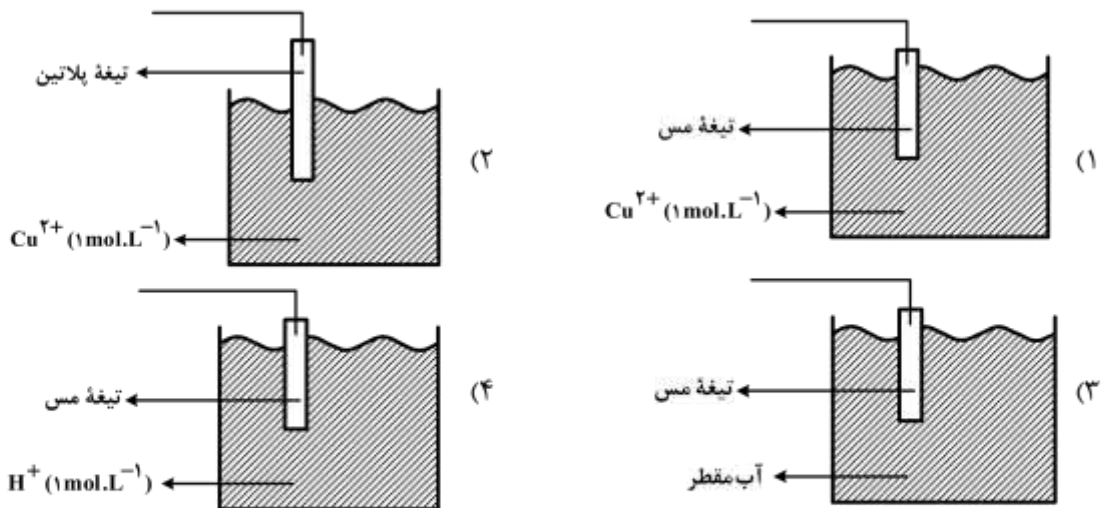
۲/۶ ، ۴ (۴)

۲/۴ ، ۴ (۳)

۲/۶ ، ۱/۲ (۲)

۲/۴ ، ۱/۲ (۱)

۲۳۰- کدام شکل، نشان دهندهٔ الکتروود استاندارد برای نیم سلول مس است؟ (دما ثابت و برابر 25°C است.)



۲۳۱- با توجه به فرایند زنگ زدن آهن در هوای مرطوب، نقش‌های آب در این واکنش، کدام‌اند؟

- (۱) اکسنده، حلال
 (۲) کاهنده، حلال
 (۳) الکتروولیت، واکنش دهنده
 (۴) الکتروولیت، اکسنده

۲۳۲- نیروی الکتروموتوری (E°) واکنش: $M(s) + 2Ag^{+}(aq) \rightarrow M^{2+}(aq) + 2Ag(s)$ ، برابر $+1/56$ ولت و E° الکتروود

نقره برابر $+0/80$ ولت است. E° الکتروود فلز M ، برابر ولت است و کاتیون $Ag^{+}(aq)$ ، از کاتیون $M^{2+}(aq)$ است.

- (۱) کاهنده‌تر، $-0/4$ (۲) اکسنده‌تر، $+0/4$ (۳) کاهنده‌تر، $-0/76$ (۴) اکسنده‌تر، $-0/76$

۲۳۳- در گرافن، هر اتم کربن به چند اتم کربن دیگر متصل است و نوع پیوندهای میان آن‌ها به نوع پیوندهای میان

اتم‌های کربن در کدام ترکیب، شبیه‌تر است؟

- (۱) ۳، بنزن
 (۲) ۴، بنزن
 (۳) ۳، سیکلوهگزان
 (۴) ۴، سیکلوهگزان

۲۳۴- کدام مورد دربارهٔ کربونیل سولفید و گوگرد تری‌اکسید، درست است؟

(۱) شکل هندسی مشابه و به صورت خطی دارند.

(۲) در هر دو، اتم مرکزی دارای بار جزئی ($\delta+$) است.

(۳) هر دو، گشتاور دو قطبی بزرگتر از صفر دارند.

(۴) عدد اکسایش اتم مرکزی در هر دو، یکسان است.

۲۳۵- در ظرف ۲ لیتری در بسته‌ای، ۱ مول گاز آمونیاک، ۲ مول گاز هیدروژن و ۲ مول گاز نیتروژن، در دمای معین، به حالت

تعادل قرار دارند. ثابت این تعادل برابر $L^2 \cdot \text{mol}^{-2}$ است و با اندکی پایین آوردن دمای سامانهٔ واکنش، ثابت

تعادل و واکنش در جهت جابه‌جا می‌شود. $(N_2(g) + 3H_2(g) \rightleftharpoons 2NH_3(g), \Delta H < 0)$

- (۱) $0/25$ ، بزرگتر می‌شود، رفت
 (۲) $0/16$ ، ثابت می‌ماند، رفت
 (۳) $0/25$ ، کوچکتر می‌شود، برگشت
 (۴) $0/16$ ، ثابت می‌ماند، برگشت